



CURSO ADSUMUS PREPARATÓRIO PARA CONCURSOS

SUA APROVAÇÃO É A NOSSA MISSÃO!

www.cursoadsumus.com.br



Matriz: Rua Dr. Nunes, 1283 - Olaria - RJ.
Esquina com Av. Brasil, 9001, passarela 14 sentido Centro.
CEP 21.021-370
Tel: (21) 3885-0390 / WhatsApp: (21) 99852-8821

Filial: Av. 1º de Março, 125, Centro - RJ.
Próximo ao 1º Distrito Naval e a entrada do túnel 450.
CEP: 20.010-000
Cel / WhatsApp: (21) 97163-0662

7º SIMULADO QOAM – CPA/CAP 16 JULHO 2023

Caro aluno,

- O presente exercício é mais um evento do Curso **ADSUMUS**, que visa levar aos candidatos inscritos no concurso um elevado número de questões que, sem dúvida, serão de grande valia para os estudos, não só nesse momento, mas também nos dias que antecedem à prova.
- São 50 questões envolvendo **o conteúdo abordado no edital de acordo com as aulas ministradas**, com interpretação de texto e uma **REDAÇÃO** de 20 a 30 linhas.
- As questões foram elaboradas em diferentes graus de dificuldade que, por certo, exigirão dos participantes preparo, paciência e muita concentração.
- Você está recebendo um caderno de questões, uma folha para redação e um cartão resposta.
- Marque somente uma alternativa para cada questão.
- Você terá 5 horas para realizar a prova. O gabarito será divulgado no site do Curso após o evento. **LEMBRAMOS QUE O MAIOR ADVERSÁRIO DOS CANDIDATOS NOS ÚLTIMOS CONCURSOS FOI O TEMPO. PORTANTO, SAIBA ADMINISTRÁ-LO.**
- O cartão resposta e a redação, devidamente preenchidos com o número de inscrição e o Corpo a que pertence o Candidato, deverão ser entregues ao fiscal ou na secretaria ao ser anunciado o término do tempo.

BOA PROVA!

TURMAS 2023

QOA-AA-AFN:

NOVA TURMA

CENTRO: 2ª a 5ª feira, de 18h às 21h

OLARIA: 2ª a 5ª feira, de 18h às 21h e sábado, de 7h às 18h

ESPECIALIZAÇÃO CB FN:

NOVA TURMA

OLARIA: 2ª e 4ª ou 3ª e 5ª feira, de 18h às 21h

FORMAÇÃO DE SARGENTOS FN:

NOVA TURMA

OLARIA: 3ª, 4ª e 5ª, de 18h às 21h

EsSA:

NOVA TURMA

CENTRO: 2ª a 5ª feira, de 18h às 21h

RM2 (OFICIAL):

NOVA TURMA

CENTRO: SÁBADO, de 8h a 17h

CENTRO: SEMANA, de 2ª a 4ª feira, de 18h às 21h

RM2 (PRAÇA):

NOVA TURMA

CENTRO: SÁBADO, de 8h a 17h

CENTRO: SEMANA, de 2ª a 4ª feira, de 18h às 21h

EAM / SD-FN:

NOVA TURMA

CENTRO: 2ª a 5ª feira, de 18h às 21h

ATENDIMENTO DAS SECRETARIAS

OLARIA - de 2ª a 5ª feira, de 11h a 20h, e Sábado, de 7h a 16h.

CENTRO - de 2ª a 5ª feira, de 11h a 20h, e Sábado, de 8h a 16h.

A feminização da medicina no Brasil

O mundo assiste à progressiva diminuição nas diferenças de gênero, com a remoção de barreiras que impedem as mulheres de ter o mesmo acesso que os homens à educação, às oportunidades de trabalho e aos benefícios sociais. No Brasil, em paralelo à crescente predominância feminina na população, registram-se o crescimento da escolaridade feminina e a maior presença das mulheres nos diversos setores da atividade econômica.

Essas mudanças das últimas décadas também se refletem na presença cada vez maior de mulheres na medicina brasileira. Tal transformação poderá constituir-se em elemento estruturante da evolução da profissão, com consequências nas práticas médicas e na qualidade da sua assistência. O crescimento da participação feminina na profissão fica evidente na evolução do número de mulheres que entram no mercado de trabalho.

Segundo pesquisas, os homens predominam nas especialidades cirúrgicas e naquelas que atendem urgências, como a ortopedia. A ideia de que há necessidade de mais força e resistência física, maior disponibilidade de tempo, assim como compatibilização entre as práticas profissionais e a vida familiar são os principais motivos que afastam as mulheres de determinadas especialidades. Nesse sentido, a opção das médicas brasileiras tem sido pelas especialidades básicas, como pediatria e ginecologia/obstetrícia.

Na perspectiva bioética, mulheres e homens podem divergir na maneira de perceber problemas no exercício profissional da medicina. A “ética do cuidado”, relacionada à atuação das mulheres, e a “ética da justiça”, à dos homens, permitem uma reflexão bioética que considere a oposição entre valores humanos e afetivos, supostamente mais “femininos”, e valores científicos e racionais, que seriam mais “masculinos”.

Portanto, essa diversidade revela que a feminização da medicina requererá novas análises bioéticas que possam contribuir para a compreensão da dimensão dinâmica do fenômeno.

(SCHEFFER, M.C.; CASSENOTE, A.J.F. *Revista Bioética*, v. 21, n. 2, 2013. Disponível em: <<https://revistabioetica.cfm.org.br>>. Acesso em: 13 ago. 2021. Adaptado.)

QUESTÃO 01

A forma verbal destacada atende às exigências de concordância de acordo com a norma-padrão da língua portuguesa em:

- (A) No Brasil, **encontram**-se excelentes profissionais femininas em muitas áreas de atividade, o que revela uma tendência mundial na atualidade.
- (B) Como as mulheres costumam cuidar dos filhos e da casa, **precisam**-se de leis que garantam proteção para que sejam atendidas em suas necessidades.
- (C) Devido às mudanças sociais das últimas décadas, **constata**-se situações de conflito na vida privada das famílias brasileiras porque a mulher deseja profissionalizar-se.
- (D) Com o objetivo de compreender o avanço da feminização da medicina, **pesquisaram**-se, em várias regiões, a oportunidade de trabalho oferecida às mulheres.
- (E) Em diferentes fases da escolaridade, **observa**-se estudantes do sexo feminino cada vez mais dedicadas, configurando-se uma modificação sociocultural significativa.

QUESTÃO 02

O emprego das vírgulas está plenamente de acordo com a norma-padrão da língua portuguesa em:

- (A) A mulher era vista como representação da beleza, da procriação e da virtude em detrimento do seu intelecto.
- (B) As transformações da Medicina que constituem um processo dinâmico, garantiram o acesso da mulher a cargos antes inesperados.
- (C) O pensamento de que estudar era muito perigoso, para a saúde da mulher principalmente, por afetar sua mente prevaleceu por muito tempo.
- (D) O maior ingresso das mulheres na Medicina, se deve a uma série de fatores, como a intensa transformação cultural a partir dos anos 60/70.
- (E) Os movimentos sociais e políticos, que impulsionaram as mulheres para as universidades públicas têm obtido ótimos resultados.

QUESTÃO 03

No primeiro parágrafo do texto, a função que o segundo período exerce em relação ao primeiro é de

- (A) indução
- (B) gradação
- (C) contestação
- (D) especificação
- (E) generalização

QUESTÃO 04

No texto, o autor utiliza um recurso de modalização ao empregar uma expressão de opinião em:

- (A) “diminuição nas diferenças de gênero, com a remoção de barreiras que impedem as mulheres de ter o mesmo acesso que os homens à educação” (parágrafo 1)
- (B) “Essas mudanças das últimas décadas também se refletem na presença cada vez maior de mulheres na medicina brasileira.” (parágrafo 2)
- (C) “O crescimento da participação feminina na profissão fica evidente na evolução do número de mulheres que entram no mercado de trabalho.” (parágrafo 2)
- (D) “A ideia de que há necessidade de mais força e resistência física, maior disponibilidade de tempo, assim como compatibilização entre as práticas profissionais e a vida familiar são os principais motivos que afastam as mulheres de determinadas especialidades.” (parágrafo 3)
- (E) “uma reflexão bioética que considere a oposição entre valores humanos e afetivos, supostamente mais ‘femininos’, e valores científicos e racionais, que seriam mais ‘masculinos’.” (parágrafo 4)

QUESTÃO 05

No texto, o referente do termo ou da expressão em destaque está corretamente explicitado entre colchetes no:

- (A) parágrafo 2, em “**Essas mudanças** das últimas décadas também se refletem na presença cada vez maior de mulheres na medicina brasileira.” [diferenças de gênero]
- (B) parágrafo 2, em “com consequências nas práticas médicas e na qualidade da **sua assistência**.” [transformação]
- (C) parágrafo 3, em “Segundo pesquisas, os homens predominam nas especialidades cirúrgicas e **naquelas** que atendem urgência e emergência, como a ortopedia.” [pesquisas]
- (D) parágrafo 5, em “Portanto, **essa diversidade** revela que a feminização da medicina requererá novas análises bioéticas” [perspectiva bioética]
- (E) parágrafo 5, em “análises bioéticas que possam contribuir para a compreensão da dimensão dinâmica do **fenômeno**.” [feminização da medicina]

QUESTÃO 06

No desenvolvimento temático do texto, antes de afirmar que o crescimento da participação feminina na profissão fica evidente na evolução do número de mulheres que estão entrando no mercado de trabalho (parágrafo 2), o texto desenvolve a ideia de que:

- (A) a atuação feminina se aproxima mais da ética do cuidado do que a masculina, do ponto de vista da perspectiva bioética.
- (B) a compatibilização entre as práticas profissionais e a vida familiar podem afastar as mulheres de determinadas especialidades.
- (C) algumas especialidades médicas são preferencialmente masculinas, e não femininas, porque exigem mais força e resistência física.
- (D) o crescimento da escolaridade feminina e a maior presença das mulheres nos diversos setores da atividade econômica têm sido observados no Brasil.
- (E) as mulheres e os homens podem divergir na maneira de enxergar, sentir e solucionar problemas no cotidiano do exercício profissional da medicina.

QUESTÃO 07

Leia as frases a seguir, atentando para as funções sintáticas da palavra “que”:

- I. O apartamento que minha irmã comprou ainda não foi pintado.
- II. Graciliano Ramos é o escritor que muitos gostariam de ser.
- III. Hoje é o aniversariante que paga as despesas no bar.
- IV. Está aqui o livro com que ele pretende concorrer ao prêmio.

Assinale a alternativa que apresenta, respectivamente, as funções sintáticas da palavra “que”:

- (A) objeto indireto, predicativo do sujeito, objeto direto, sujeito.
- (B) complemento nominal, sujeito, predicativo do sujeito, adjunto adverbial.
- (C) objeto direto, predicativo do sujeito, sujeito, adjunto adverbial.
- (D) complemento nominal, sujeito, objeto indireto, objeto direto.
- (E) objeto direto, complemento nominal, objeto indireto, sujeito.

QUESTÃO 08

Leia:

- I. Até isso comentaram durante a reunião do condomínio!
- II. Há frondosos ipês amarelos no parque central de minha cidade.
- III. Projetaram-se grandiosos prédios naquele escritório de arquitetura.
- IV. Cientistas brasileiros pesquisaram eficazes ervas medicinais na selva amazônica.
- V. Confiava-se nos depoimentos das testemunhas sobre o hediondo crime da Rua Arvoredo.

Há sujeito indeterminado apenas em

- (A) I e V.
- (B) I e III.
- (C) II e IV.
- (D) III e V.
- (E) IV e V.

QUESTÃO 09

A quantidade de documentos que foram expedidos numa OM nos meses de março, abril, maio, junho e julho foi a seguinte:

- março: seis ofícios externos e cinco ofícios internos.
- abril: sete ofícios internos e duas cartas.
- maio: dois ofícios externos e nove ofícios internos.
- junho: uma carta, um ofício externo e cinco ofícios internos.
- julho: duas cartas, cinco ofícios internos e cinco ofícios externos.

Sabendo que na análise de dados a variância é uma medida de dispersão que mostra quão distantes os valores estão da média. A variância do **número de documentos** expedidos nesses meses é:

- (A) 1
- (B) 2
- (C) 2,7
- (D) 3,2
- (E) 4,5


QUESTÃO 10

Seja (a_n) uma progressão aritmética crescente, de números naturais, cujo primeiro termo é igual a 4 e a razão é igual a r . Se existe um termo desta progressão igual a 25, então a soma dos possíveis valores de r é:

- (A) 24
- (B) 32
- (C) 36
- (D) 40
- (E) 45

QUESTÃO 11

Para colocar preço em seus produtos, uma empresa desenvolveu um sistema simplificado de código de barras formado por cinco linhas separadas por quatro espaços. Podem ser usadas linhas de quatro larguras possíveis e espaços de 3 larguras possíveis.



O número total de preços que podem ser representados por esse código é:

- (A) 82944
- (B) 83034
- (C) 85043
- (D) 86237
- (E) 87922

QUESTÃO 12

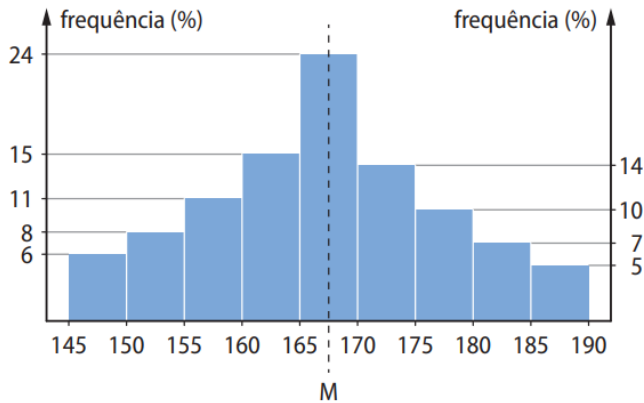
Determine o valor de a para o qual o determinante abaixo é nulo.

$$\begin{vmatrix} 2 & -1 & 0 & -2 \\ -1 & -4 & 6 & a \\ 1 & -2 & 2 & -1 \\ 0 & 1 & -1 & 0 \end{vmatrix}$$

- (A) - 2
- (B) - 1
- (C) 0
- (D) 1
- (E) 2

QUESTÃO 13

O histograma seguinte representa a distribuição das estaturas de 100 pessoas e as respectivas frequências. Por exemplo, na terceira classe (155 – 160) estão situados 11% das pessoas com estaturas de 1,55 m a 1,59 m. A quinta classe (165 – 170) chama-se classe mediana. Pelo ponto M situado na classe mediana, traça-se uma reta paralela ao eixo das frequências, de modo a dividir a área da figura formada pelos nove retângulos das frequências em duas regiões de mesma área. Determine a abscissa do ponto M (mediana das observações)



- (A) 165,02
- (B) 166,01
- (C) 166,09
- (D) 167,08
- (E) 169,99

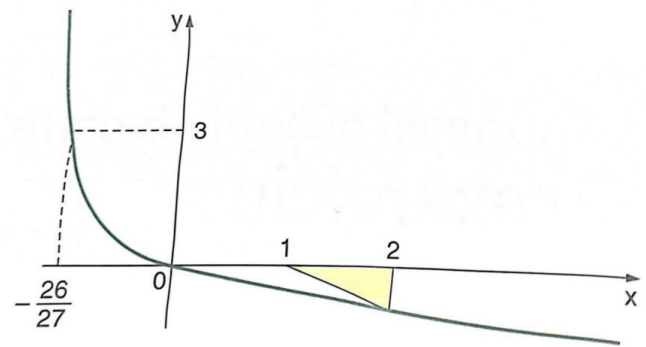
QUESTÃO 14

O domínio da função racional $f(x) = \frac{1}{|x| - 7}$ é

- A) $x \in \mathbb{R} / x \in] - 7, 7 [$
- B) $x \in \mathbb{R} / x \in] 0, 7 [$
- C) $x \in \mathbb{R} - \{-7; 7\}$
- D) $x \in \mathbb{R} - \{0; 7\}$
- E) $x \in \mathbb{R} - \{7\}$

QUESTÃO 15

O gráfico da função a seguir representa uma função do tipo $f(x) = \log_b(x + a)$.



A área do triângulo retângulo colorido é:

- (A) 5
- (B) 3
- (C) 2
- (D) 1
- (E) 1/2

QUESTÃO 16

A dublagem é o novo campo a ser explorado pela inteligência artificial, e há empresas dedicadas a fazer com que as vozes originais de atores sejam transpostas para outros idiomas. A novidade reforça a tendência da automação de postos de trabalho nas mais diversas áreas. Tem potencial para facilitar a vida de estúdios e produtoras e, ao mesmo tempo, tornar mais escassas as oportunidades para dubladores e atores que trabalham com isso.

GAGLIONI, C. Disponível em: www.nexojournal.com.br. Acesso em: 25 out. 2021.

A consequência da mudança tecnológica apresentada no texto é a

- (A) proteção da economia nacional.
- (B) valorização da cultura tradicional.
- (C) diminuição da formação acadêmica.
- (D) estagnação da manifestação artística.
- (E) ampliação do desemprego estrutural.

QUESTÃO 17

Em 2003, teve início o Programa de Aquisição de Alimentos e, com ele, várias mudanças na perspectiva dos mercados institucionais. Trata-se do primeiro programa de compras públicas com uma orientação exclusiva para a agricultura familiar, articulando-a explicitamente com a segurança alimentar e nutricional. O Programa é destinado à aquisição de produtos agropecuários

produzidos por agricultores enquadrados no Programa Nacional de Fortalecimento da Agricultura Familiar (Pronaf), incluídas aqui as categorias: assentados da reforma agrária, trabalhadores rurais sem terra, acampados, quilombolas, agroextrativistas, famílias atingidas por barragens e comunidades indígenas.

GRISA, C.; ISOPO, S. P. Dez anos de PAA: As contribuições e os desafios para o desenvolvimento rural. In: GRISA, C.; SCHNEIDER, S. (Org.). **Políticas públicas de desenvolvimento rural no Brasil**. Porto Alegre: UFRGS, 2015.

A ação governamental descrita constitui-se uma importante conquista para os pequenos produtores em virtude da:

- (A) Inovação tecnológica.
- (B) Reestruturação fundiária.
- (C) Comercialização garantida.
- (D) Eliminação no custo do frete.
- (E) Negociação na bolsa de valores

QUESTÃO 18

Macrocefalia urbana pode ser entendida como a massiva concentração das atividades econômicas em algumas metrópoles que propicia o desencadeamento de processos descompassados: redirecionamento e convergência de fluxos migratórios, déficit no número de empregos, ocupação desordenada de determinadas regiões da cidade e estigmatização de estratos sociais, que comprometem substancialmente a segurança pública urbana.


SANTOS, M. **O espaço dividido**: os dois circuitos da economia urbana dos países subdesenvolvidos. São Paulo: Edusp, 2004.

O processo de concentração espacial apresentado foi estimulado por qual fator geográfico?

- (A) Limitação da área ocupada.
- (B) Êxodo da população do campo.
- (C) Ampliação do risco habitacional.
- (D) Deficiência do transporte alternativo.
- (E) Crescimento da taxa de fecundidade.

QUESTÃO 19

A intensificação da ocupação urbana demonstrada abaixo afeta de forma imediata o(a)



- (A) nível altimétrico.
- (B) ciclo hidrológico.
- (C) padrão climático.
- (D) tectônica de placas.
- (E) estrutura das rochas.

QUESTÃO 20

Brasileiros levam mais tempo de casa para o trabalho. Pesquisa do IBGE aponta que a situação é mais grave no Sudeste: 13% das pessoas levam mais de uma hora para chegar ao trabalho. Nas regiões metropolitanas de São Paulo e do Rio, o IBGE registrou os maiores percentuais de trabalhadores que levam mais de uma hora no trajeto até o emprego. Quem vê o Marcelo chegar ao trabalho nem imagina a maratona que ele enfrenta todos os dias antes das 5 h. "Acordo 4 h 30, saio de casa 5 h, pego trem 5 h 20, chego na Central umas 6 h 50, pego ônibus e chego no trabalho mais ou menos 7 h 10", conta. Segundo especialista, são os mais pobres os que moram mais longe do emprego.

Disponível em: www.portaldotransito.com.br. Acesso em: 23 nov. 2021 (adaptado).

A pesquisa desenvolvida retrata a seguinte dinâmica populacional:

- (A) Fluxo de retorno.
- (B) Migração interna.
- (C) Mudança sazonal.
- (D) Movimento pendular.
- (E) Deslocamento forçado.

QUESTÃO 21

A rotação de culturas é um método que consiste na alternância de uma cultura de uma leguminosa com uma outra cultura de não leguminosa, por exemplo, a alternância de uma plantação de cana ou milho com uma de amendoim ou feijão, periodicamente. Assim, em uma safra planta-se uma não leguminosa e na entressafra uma leguminosa, deixando os restos das leguminosas nas áreas onde se pretende plantar outra cultura.

(REZENDE, M. O. O. et al. Importância da compreensão dos ciclos biogeoquímicos para o desenvolvimento sustentável. São Carlos: Instituto de Química de São Carlos/USP, 2003 - adaptado)

A forma de manejo exemplificada desenvolve um modo de uso da terra que proporciona a:

- (A) redução dos nutrientes no solo.
- (B) compactação das camadas superficiais.
- (C) fixação do nitrogênio pelas raízes dos vegetais.
- (D) intensificação da erosão pelo intemperismo físico.
- (E) concentração de sais por mecanismo de irrigação.

QUESTÃO 22

Existe uma concorrência global, forçando redefinições constantes de produtos, processos, mercados e insumos econômicos, inclusive capital e informação.

(CASTELLS, M. A sociedade em rede. São Paulo: Paz e Terra, 2011)

Nos últimos anos do século XX, o sistema industrial experimentou muitas modificações na forma de produzir, que implicaram transformações em diferentes campos da vida social e econômica.

A redefinição produtiva e seu respectivo impacto territorial ocorrem no uso da:

- (A) técnica fordista, com treinamento em altas tecnologias e difusão do capital pelo território.
- (B) linha de montagem, com capacitação da mão de obra em países centrais e aumento das discrepâncias regionais.
- (C) robotização, com melhorias nas condições de trabalho e remuneração em empresas no Sudeste asiático.
- (D) produção *just in time*, com territorialização das indústrias em países periféricos e manutenção das bases de gestão nos países centrais.
- (E) fabricação em grandes lotes, com transferências financeiras de países centrais para países periféricos e diminuição das diferenças territoriais.

QUESTÃO 23

Atualmente não se pode identificar o espaço rural apenas com a agropecuária, pois no campo não há somente essa atividade, embora ela possa ser a mais importante na maioria das regiões situadas no interior do país. Não é procedente se pensar no campo dissociado das cidades.

(HESPANHOL, A. N. O desenvolvimento do campo no Brasil. Geografia agrária: teoria e poder. São Paulo: Expressão Popular, 2007)

A realidade contemporânea do espaço rural descrita no texto deriva do processo de expansão:

- (A) de áreas cultivadas.
- (B) do setor de serviços.
- (C) da proporção de idosos.
- (D) de regiões metropolitanas.
- (E) da mecanização produtiva.

QUESTÃO 24

Observe a foto da maquete abaixo, pertencente ao Museu da Marinha em Lisboa - Portugal.



A nau *Madre de Deus* foi o maior navio do mundo no seu tempo, deslocando 1600 toneladas (900 das quais em carga). Construída na Ribeira das Naus em Lisboa em 1589, para a Carreira da Índia, tinha 50 metros de comprimento e 14,5 metros de largura. Dispunha de 7 conveses e 32 canhões, entre outras armas, empregando uma tripulação de 600 a 700 homens. Em agosto de 1592, carregada de valiosíssimas mercadorias, de regresso à Lisboa na sua segunda viagem à Índia, foi atacada e capturada por uma frota inglesa de seis navios ao largo dos Açores. A *Madre de Deus* constituiu um dos maiores saques navais da História humana.

Com base no texto acima, marque abaixo um sentença correta sobre as nações que empreenderam as Grandes Navegações.

- (A) A presença de naus no comércio das nações ibéricas era percebida desde meados do século XV. Foi a bordo de navios com as características das naus que grandes navegadores como Colombo e Vasco da Gama alcançaram seus objetivos náuticos.
- (B) A perseguição aos navios portugueses na área dos arquipélagos de Açores e Madeira era tão antiga quanto o comércio marítimo desses povos. Um grande exemplo foi a necessidade de se fazer o Tratado de Toledo em 1579 para delimitar as áreas de circulação dos navios de outras nações, tendo como Marco o Arquipélago das Canárias.
- (C) A antiga aliança Luso-Britânica, que desde o século XIV rendia lucros ao comércio da Inglaterra e de Portugal, fora quebrada no fim do século XVI pela "Era Filipina" e pelo domínio de Madri sobre Lisboa.
- (D) Inglaterra, após conceber suas marinhas de comércio e guerra nas mãos dos reis Stuarts Henrique VII e VIII, teve nas mãos de Elizabeth de Windsor o apogeu das conquistas marítimas da Inglaterra.
- (E) Apesar de ter sido uma embarcação exclusiva portuguesa, as naus foram responsáveis pelo dinamismo econômico de toda a Europa entre os séculos XV e XVIII. Graças a Portugal e a construção naval na Ribeira das Naus em Lisboa, que italianos conservaram o comércio mediterrâneo após a queda de Constantinopla.

QUESTÃO 25

Os *Persas*, uma peça teatral do Dramaturgo Ésquilo (525-456 a.C.), foi encenada pela primeira vez em 472 a.C., portanto, oito anos após a batalha de Salamina que ocorreu em 480 a.C., na qual seu autor tomou parte. Ao lado de ser considerada a mais antiga das tragédias gregas que chegou até nós, ela traz ainda a singularidade de ser também a única a tematizar um "fato" histórico. A partir do acontecimento que tomou parte, Ésquilo compõe uma tragédia que, na narrativa dos um dos personagens que faz o papel de mensageiro dos persas, descreve a derrota bárbara e a superioridade grega do ponto de vista político e estratégico, visto que militarmente eram inferiores. Os sucessos obtidos pelos gregos em Salamina, foram completados pelas ações em

- (A) uma batalha terrestre nos mares em Atenas, em 481aC.
- (B) uma batalha terrestre nos campos em Esparta, em 480aC.
- (C) uma batalha naval no Estreito de Corinto, em 491aC
- (D) uma batalha campal na região da Ática em Tebas, em 489aC.
- (E) uma batalha naval em terra, em Micalé 479aC.

QUESTÃO 26

Um dos critérios que pesava na escolha da força motriz do vapor para os navios de guerra estava na confiança, ou melhor, na falta de confiança na nova tecnologia. Os prejuízos ocorridos a um navio mercante, de cargas ou passageiros, são mínimos em comparação a um navio de guerra. Não é apenas a integridade física das pessoas a bordo que está ameaçada pela incapacidade de reparo e pronto emprego de um navio de guerra, mas toda a capacidade dissuasória de uma nação. Sem credibilidade, uma marinha de guerra não é capaz de cumprir com sua missão, e a credibilidade está diretamente condicionada pela capacidade da marinha em demonstrar mobilidade, permanência, versatilidade e flexibilidade. Se qualquer um desses itens faltar, faltará a credibilidade.

Um exemplo de desconfiança no emprego inicial do vapor nos navios de guerra estava

- (A) no posicionamento do leme, que passou a ser a meia nau, para comportar os eixos de transmissão da força motriz do vapor para o progresso do navio.
- (B) nas rodas de pás laterais. Era um alvo fácil, expostas não apenas ao risco de acidentes, com qualquer material flutuante acima ou fixo abaixo d'água, mas também aos possíveis tiros certos do inimigo.
- (C) no posicionamento das máquinas onde antes eram os cabedais de fixação dos cabos de velas.
- (D) na total incompreensão dos marujos quanto ao seu emprego. Visto como um mecanismo diabólico pelas guarnições dos navios, o uso do vapor enfrentou a desconfiança de praças das marinhas tradicionais.
- (E) no combustível a ser usado. A escolha do emprego do carvão (mineral), que existia em grande quantidade na Inglaterra, e a rápida adoção por aquela nação do uso do vapor, fez com que as outras marinhas recusassem seu emprego

QUESTÃO 27



Acima, fotos da reconstruído Galeão *Goldem Hind* (“traseiro dourado”, em alusão a uma espécie de corsa), hoje em exposição no St Mary Overie's Dock em Londres, foi um navio emblemático para a História Naval inglesa devido a:

- (A) ter sido responsável pelo início da colonização inglesa na América do Norte, estabelecendo as primeiras colônias na costa Ocidental dos atuais EUA.
- (B) ter sido o navio capitânia do Almirante Nelson na Batalha Naval de Trafalgar, em 1805, levando a Inglaterra ao apogeu marítimo.
- (C) ser o primeiro da classe de navios a ter portinholas nas laterais para o posicionamento da artilharia que, devido a tal condição passou a fazer o combate naval pela bordada e não mais pela aproximação frontal.
- (D) ter nas mãos de Francis Drake, o corsário, feito a famosa viagem de circunavegação que obteve um lucro fenomenal para a Rainha Elizabeth I no final do século XVI.
- (E) ter sido comandado pelo maior expoente da Marinha inglesa, o Almirante Fischer, que durante sua carreira naval combateu as marinhas espanhola e holandesas, vencendo suas congêneres em batalhas memoráveis.

QUESTÃO 28

A Guerra no Oceano Pacífico viu as Forças Aliadas na Ásia travarem uma guerra total contra o Império do Japão (sendo este apoiado por Estados clientes e pelas Potências do Eixo: Alemanha e Itália). A apelidada Segunda Guerra Sino-Japonesa, entre a República da China e o Império do Japão, já estava em progresso desde julho de 1937, com a origem das hostilidades podendo ser traçada até setembro de 1931, quando os japoneses invadiram a Manchúria. Contudo, a data exata de consenso, segundo os historiadores, para o começo da Guerra do Pacífico é 7/8 de dezembro de 1941, quando o Japão invadiu a Tailândia e atacou as possessões britânicas da Malásia, Singapura e Hong Kong, além das bases

- (A) militares americanas em Pearl Harbour no Havai.
- (B) comerciais da Indonésia nas Ilhas Marianas.
- (C) de comunicação aliadas nas Ilhas Marshal.
- (D) de observação e vigilância, impostas pelos EUA em Midway.
- (E) comerciais nas Filipinas, mais exatamente no estreito de Leyte.

QUESTÃO 29

No início do século XVII, Salvador - BA era uma das mais importantes cidades da América e a capital colonial do Brasil.

A primeira tentativa holandesa de conquistar Salvador ocorreu em dezembro de 1599, quando o almirante van Leynssen enviou sete navios ao Brasil, comandados pelos capitães Hartman e Broer. Os ataques na Baía de Todos os Santos duraram quase dois meses. Os holandeses afundaram várias embarcações portuguesas e pilharam engenhos no Recôncavo, mas fracassaram no objetivo de conquistar a Cidade.

Nos anos seguintes, os piratas holandeses continuaram atacando navios espanhóis e portugueses em alto mar, tanto no Atlântico quanto no Oceano Índico. Em 1604, tentaram novamente conquistar Salvador, dessa vez com uma esquadra de seis navios comandada por Paulus van Caerden. O ataque foi similar ao primeiro e o resultado também. Nos anos seguintes, dezenas de navios, com cargas do Brasil, foram atacados pelos holandeses.

Com base na história luso-holandesa, incluindo a brasileira, marque abaixo uma alternativa INCORRETA.

- (A) Durante a primeira investida holandesa no Brasil que obteve sucesso de ocupação, Brasil era uma colônia de um Estado português controlado por espanhóis, durante a União Ibérica (1580-1640).
- (B) Em 1621, os holandeses fundaram a Companhia das Índias Ocidentais (West-Indische Compagnie), uma empresa patrocinada pelo governo holandês, com a participação de investidores privados e que buscava principalmente a exploração comercial da América.
- (C) A conquista de Salvador-BA pelos holandeses foi um dos mais importantes eventos do mundo ocorridos na primeira metade do século XVII. Tinha relação com o domínio comercial do Atlântico. Naquela época, a Cidade do Salvador era de importância estratégica no comércio mundial.
- (D) No século XVI, Portugal mantinha boas relações comerciais com os holandeses, mas esse quadro mudou com a União Ibérica em 1580. Em 1579, as províncias do norte dos Países Baixos formaram a União de Utrecht, rompendo com Espanha. Em 1581, declararam formalmente sua independência, entretanto, Espanha só a reconheceu 1648.
- (E) Em 09 de maio de 1624, uma esquadra holandesa de 26 navios e cerca de 3.400 holandeses comandados Jacob Willekens, chegou à Bahia. A capital, Salvador, foi fortemente bombardeada pelos holandeses, com muitos prejuízos para a cidade, mas a população resistiu heroicamente até a chegada da Jornada dos Vassalos em 1625, que conseguiu vencer os holandeses.

QUESTÃO 30

No dia 19 de setembro de 1920, em um domingo ensolarado, chegou ao Brasil um dos maiores heróis da Primeira Guerra Mundial (1914-1918): o rei da Bélgica, Alberto I. Veio acompanhado de sua esposa, a rainha Elisabeth, e permaneceu no país por quase um mês, voltando para as geladas terras europeias no dia 13 de outubro. Apesar de raramente aparecer em algum livro de história do Brasil, a visita belga foi um evento extremamente significativo para a sociedade brasileira, afinal, receberíamos em nossas terras uma das personalidades mais importantes do cenário pós-Primeira Guerra, fato que auxiliaria na promoção da política externa e da economia brasileiras.

Alberto I era neto de outro importante rei belga para a História do Brasil, sendo este

- (A) Balduino, que esteve à frente das operações aéreas no Canal da Mancha com participação de pilotos brasileiros na Primeira Guerra Mundial.
- (B) Leopoldo I, que mediou o conflito anglo-brasileiro conhecido como Questão Christie em 1863 e que, mesmo sendo tio da rainha Vitória da Inglaterra, deu ganho de causa ao Brasil.
- (C) Carlos II, casado com uma princesa portuguesa sobrinha de Pedro II do Brasil, contribuiu com o avanço do comércio brasileiro na Europa durante o Segundo Império brasileiro.
- (D) Filipe, que nas relações nobiliárquicas europeias tinha ascendência ibérica, durante a fase de transição do Império para a República no Brasil, instalou diversas indústrias no Rio de Janeiro, capital do Brasil.
- (E) Carlos II, conhecido como "Monarca das Multidões", evidenciando a característica militar da linhagem Saxe-Coburgo-Saalfeld, durante as Guerras Napoleônicas, contribuiu para a libertação de Portugal e a vitória aliada contra Napoleão em Waterloo, Bélgica, em 1814.

QUESTÃO 31

Determinado navio da Esquadra suspendeu do ARMJ no dia 10JUN2023 em direção ao porto X, no qual atracou no dia 15JUN2023. Logo após, suspendeu em direção ao Porto Y. Após alguns dias, suspendeu em direção ao porto de origem, cumprindo sua derrota em 02JUL2023, data em que emitiu um ofício ao ComImSup com o relato da missão, que recebeu a seguinte data:

- (A) Travessia entre cidade Y, UF e Rio de Janeiro, RJ, em 02 de julho de 2023.
- (B) Rio de Janeiro, RJ, 2 de julho de 2023.
- (C) Rio de Janeiro, RJ, em 02 de julho de 2023
- (D) Travessia entre cidade Y, UF e Rio de Janeiro, RJ, em 02 de julho de 2023.
- (E) Rio de Janeiro, RJ. Em viagem, 02 de julho de 2023

QUESTÃO 32

Documentos Administrativos de Correspondência são documentos de interesse da MB que a SGM-105 trata tanto da elaboração, quanto do recolhimento à DPHDM, dentre eles:

- (A) Ofício nº 06-09, do Com1ºDN
- (B) Ordem de Serviço nº 100, da DPMM
- (C) Memorando nº 03, do CIAA à DEEnsM
- (D) NORDINAVRIO nº 06-09, do Com1ºDN
- (E) Comunicação Padronizada de Processos Judiciais nº 2, da DPMM

QUESTÃO 33

A respeito da classificação dos Documentos Administrativos, a SGM-105 prescreve:

- (A) nos documentos digitais, as marcações de sigilo e precedência utilizarão o carimbo com letras com cerca de 3mm de largura por 3.5mm de altura e espaçadas de 0,5mm entre si
- (B) um documento de âmbito externo, cujo acesso seja ostensivo, poderá receber a classificação de precedência "especial"
- (C) documentos de acesso "rotina" e de precedência "ostensivo" terão as páginas marcadas com tais informações
- (D) não é possível a divulgação de documentos ostensivos nas redes sociais
- (E) documentos de acesso "ostensivo" e de precedência "rotina" não terão as páginas marcadas com tais informações

QUESTÃO 34

São Documentos Administrativo Normativos, conforme especificado na NODAM:

- (A) Portaria, Instrução Permanente, Ordem Interna e Norma Permanente
- (B) Ordem do Dia, Ordem Interna, Instrução Permanente e Norma Permanente
- (C) Norma, Ordem de Serviço, Instrução Normativa e Portaria
- (D) Portaria, Instrução Permanente, Ordem Interna e Norma
- (E) Portaria, Instrução Normativa, Norma Permanente e Ordem do Dia

QUESTÃO 35

O Manual Técnico de Elaboração de Documentos Administrativos da MB orienta para o Documento Administrativo Digital:

- (A) os documentos administrativos de correspondência, cujo departamento possui seu próprio controle de numeração, ao serem expedidos e recebidos deverão, entre OM, tramitar obrigatoriamente entre os SECOM
- (B) a responsabilidade pela “confirmação de entrega” de DA por meio eletrônico será sempre da OM de destino
- (C) é permitida a autenticação de assinatura em assinatura sobreposta em expediente “via” para OM cujo titular seja Almirante
- (D) a cópia de DA recebido em forma digital, que venha a ser impresso para se juntar a outro DA tramitando em forma de papel, deverá ser autenticada pelo Oficial encarregado do SECOM
- (E) quando o tamanho obtido pelo somatório de arquivos que compõem o DA for “1 MB”, estes poderão ser compactados em um único arquivo, por meio de software de compactação padronizado para uso pela MB

QUESTÃO 36

No dia 09OUT2022, sexta-feira, o MN Almirante foi licenciado às 16:30h e deveria retornar no próximo dia útil, às 08:00. Contudo, o militar não se apresentou, tampouco alguém possuía alguma informação de seu paradeiro. Nessa situação, a DGPM-315 não estabelece:

- (A) será encaminhada ao Comandante a Parte de Deserção pelo Encarregado do Pessoal ou da Divisão
- (B) após lavrado, o Termo de Deserção será transcrito em Ordem de Serviço
- (C) será imediatamente agregado, assim como será imediatamente reincluído quando se apresentar ou for capturado
- (D) será comunicada a deserção por meio de mensagem ao ComDN em cuja área de jurisdição ocorreu o crime, aos demais ComDN, ao DPMM, com informação ao Diretor do CIM
- (E) será lavrado o Termo de Deserção, assinado pelo Comandante, duas testemunhas, de preferência oficiais, além do Oficial Encarregado

QUESTÃO 37

Quanto às restrições à exclusão do Serviço Ativo, a DGPM-315 estabelece que:

- (A) não poderá ser realizado o licenciamento do SAM de praças estáveis quando indiciadas em IPM
- (B) poderá ser realizado o licenciamento do SAM de praças não estáveis, quando indiciadas em IPM
- (C) não poderá ser transferido para a Reserva Remunerada, a pedido, o militar não estável, quando cumprindo pena de qualquer natureza
- (D) poderá ser realizado o licenciamento do SAM de praças não estáveis, quando desertoras
- (E) não poderá ser transferido para a Reserva Remunerada, a pedido, o militar, quando respondendo a processo administrativo disciplinar

QUESTÃO 38

Sobe os procedimentos e prazos do Inquérito Policial Militar, é importante observar:

- (A) o Encarregado poderá determinar buscas domiciliares e o processo administrativo deverá ser concluído em até 40 dias, em caso de não haver prisão de indiciado
- (B) o Encarregado poderá efetuar prisão de militar da reserva que tenha cometido crime propriamente militar e o procedimento administrativo terá prazo mínimo de 20 dias, caso haja prisão de indiciado
- (C) o Encarregado poderá efetuar apreensão de bens, após autorização judicial e o processo administrativo deverá ser encerrado em até 30 dias, caso no 10º dia tenha determinado a prisão do indiciado por crime impropriamente militar
- (D) o Encarregado poderá determinar a realização de exame de corpo de delito e deverá ser apresentada a solução do processo administrativo em até 10 dias após a entrega do relatório
- (E) o Encarregado poderá determinar a prisão de indiciado em crime propriamente militar e a solução será apresentada dentro do prazo de 20 dias após efetuada a prisão

QUESTÃO 39

Considera-se crime militar, em tempo de paz, conforme o art. 9º do Código Penal Militar (CPM), exceto:

- (A) praticado por militar em situação de atividade, ou assemelhado, contra o patrimônio sob a administração militar, ou a ordem administrativa militar
- (B) praticado por militar em situação de atividade ou inatividade, contra militar na mesma situação ou assemelhado
- (C) praticado por militar durante o período de manobras ou exercício, contra militar da reserva, ou reformado, ou assemelhado, ou civil
- (D) praticado por militar em situação de atividade ou assemelhado, em lugar sujeito à administração militar, contra militar da reserva, ou reformado, ou assemelhado, ou civil
- (E) praticado por militar da reserva, ou reformado, ou por civil contra o patrimônio sob a administração militar, ou contra a ordem administrativa militar

QUESTÃO 40

De acordo com o Manual de Combate a Incêndio (CAAML-1202), os incêndios Classe “D” são os que se verificam em metais combustíveis, os quais queimam em altas temperaturas e reagem com extintores comuns. Para sua extinção, são necessários agentes extintores especiais (pós químicos especiais) que se fundem em contato com o metal combustível, formando uma espécie de capa que o isola do ar atmosférico, interrompendo a combustão pelo princípio de abafamento. Sobre o assunto, assinale a única opção correta relacionada ao agente empregado exclusivamente no combate a incêndios em metais combustíveis:

- (A) Pó Químico Seco Especial (PLUS FIF1Y)
- (B) Pó Químico Seco Especial (FORAY)
- (C) Pó Químico Seco Especial (MET-L-X)
- (D) Pó Químico Seco Especial (PURPLE-K)
- (E) Pó Químico Seco Especial (Novec™ 1230)

QUESTÃO 41

Na fase inicial de um sinistro, estando o navio em regime de viagem, o combate inicial poderá ser realizado por uma Turma de Ataque Rápido (TAR) no mar, enquanto não for julgado necessário, de acordo com a evolução da situação, o guarnecimento de Postos de Combate ou Postos de CAV. Sobre o assunto, assinale a opção incorreta:

- (A) Os Comandantes de Força/Esquadrões poderão autorizar alterações na composição da TAR de acordo com as necessidades de cada classe de navio.
- (B) A TAR poderá ser incorporada inteira na organização do CAV durante a Condição I/IA, em um ou mais Grupos de Reparo.
- (C) Os Comandantes de Força/Esquadrões são responsáveis pela organização da TAR e pela qualificação e adestramento do pessoal que a compõe.
- (D) O propósito da TAR é dar ao navio a máxima capacidade de responder rapidamente à sinistros e de determinar a extensão de danos.
- (E) Os Comandantes de Força/Esquadrão poderão determinar nas suas classes de navio a existência dessa TAR.

QUESTÃO 42

O Grupo de Socorro Externo (GSE) tem por propósito prestar auxílio de pessoal e/ou material para o combate a quaisquer avarias em outros navios, no porto ou no mar e em instalações de terra. Sobre o GSE, assinale a opção incorreta:

- (A) O material do GSE deve ser separado de acordo com a Lista de Dotação de Material de CAV.
- (B) Formará a bordo em local determinado pela Organização Administrativa.
- (C) O GSE deve ser acionado a bordo pelo Oficial de Quarto no porto.
- (D) Deve existir um detalhe fixo do GSE para a situação de toda a guarnição a bordo.
- (E) O GSE só deve subir a bordo de um navio sinistrado após o mais antigo do grupo haver se apresentado.

QUESTÃO 43

Cerimonial da Marinha – assinale a alternativa INCORRETA.

- (A) A continência individual é a forma de saudação que o militar isolado faz em postos de combate.
- (B) A continência individual é executada pelo militar em faina ou serviço que não possa ser interrompido.
- (C) A continência individual não é executada pelo militar que estiver em postos de continência ou de Parada.
- (D) Se o militar estiver em formatura comandada, só fará continência a Bandeira Nacional e ao Hino Nacional não cantado.
- (E) Se o Militar estiver de sentinela, armado de fuzil ou outra arma que lhe impossibilite o movimento da mão direita a continência não é executada.

QUESTÃO 44

Cerimonial da Marinha - Os navios em mar aberto podem prescindir da exibição da Bandeira Nacional, salvo nas seguintes situações, EXCETO uma qual?

- (A) Durante o cruzamento, no mar, com outro navio, ou na passagem próxima de farol ou estação semafórica com guarnição.
- (B) Quando sobrevoado por alguma aeronave.
- (C) Durante postos de combate.
- (D) Quando fotografados ou filmados.
- (E) Quando a bordo Comandante de força ou COMAPEM.

QUESTÃO 45

Cerimonial da Marinha – Assinale a alternativa correta.

- (A) Quando o Comandante da Marinha estiver a bordo de OM da MB, seu pavilhão permanece içado no mastro do pátio do Comando da Marinha, do Distrito Naval ou do COMAP enquanto este estiver presente na Capital Federal, na sede do Distrito Naval ou em outra localidade em que haja OM de Marinha, respectivamente.
- (B) O pavilhão de Comandante de Força relativo a Comandante de Distrito Naval ou Comandante Naval é mantido hasteado nos navios subordinados.
- (C) As bandeiras-insígnias podem ser arriadas durante combate ou operações de guerra, se assim julgarem conveniente os Comandantes de forças.
- (D) Quando Forças ou navios estiverem próximos entre si, dentro do alcance visual de bandeiras, somente o navio onde se encontrar o oficial mais antigo hasteia o pavilhão do COMAP.
- (E) O oficial de marinha com direito a pavilhão pode, quando uniformizado, usar miniatura do respectivo pavilhão na viatura que o transportar, disposta em haste apropriada fixada no para-lama direito dianteiro.

QUESTÃO 46

Estatuto dos Militares – Os deveres militares emanam de um conjunto de vínculos racionais e morais que ligam o militar à Pátria e ao seu serviço. Das alternativas a baixo, assinale a alternativa que representa um dever militar.

- (A) Aprimoramento técnico-profissional.
- (B) Patriotismo, traduzido pela vontade inabalável de cumprir o dever militar e pelo solene juramento de fidelidade à Pátria até com o sacrifício da própria vida
- (C) Ser justo e imparcial no julgamento dos atos e na apreciação do mérito dos subordinados.
- (D) A dedicação e a fidelidade à Pátria, cuja honra, integridade e instituições devem ser defendidas mesmo com o sacrifício da própria vida.
- (E) Cumprir e fazer cumprir as leis, os regulamentos, as instruções e as ordens das autoridades competentes

QUESTÃO 47

Estatuto dos Militares – Assinale a alternativa INCORRETA.

- (A) Ao militar é vedado comerciar ou tomar parte na administração ou gerência de sociedade ou dela ser sócio ou participar, exceto como acionista ou quotista, em sociedade anônima ou por quotas de responsabilidade limitada.
- (B) Cargo Militar é a soma de autoridade, deveres e responsabilidades de que o militar é investido legalmente quando conduz homens ou dirige uma organização militar.
- (C) No intuito de desenvolver a prática profissional, é permitido aos militares dos Quadros ou Serviços de Saúde e de Veterinária o exercício de Atividade técnico-profissional no meio civil, desde que tal prática não prejudique o serviço e não infrinja o disposto neste artigo.
- (D) O Cargo Militar é vinculado ao grau hierárquico e constitui uma prerrogativa impessoal, em cujo exercício o militar se define e se caracteriza como chefe.
- (E) A subordinação não afeta, de modo algum, a dignidade pessoal do militar e decorre, exclusivamente, da estrutura hierarquizada das Forças Armadas.

QUESTÃO 48

Estatuto dos Militares – Não é prerrogativa dos militares:

- (A) Os militares da ativa, no exercício de funções militares, são dispensados do serviço na instituição do Júri e do serviço na Justiça Eleitoral.
- (B) Julgamento em foro especial nos crimes militares.
- (C) Garantia da patente em toda a sua plenitude, com as vantagens, prerrogativas e deveres a ela inerentes, quando oficial, nos termos da Constituição
- (D) Honras, tratamento e sinais de respeito que lhes sejam assegurados em leis e regulamentos.
- (E) Uso de títulos, uniformes, distintivos, insígnias e emblemas militares das Forças Armadas, correspondentes ao posto ou graduação, Corpo, Quadro, Arma, Serviço ou Cargo.

QUESTÃO 49

Regulamento disciplinar – Assinale a alternativa INCORRETA.

- (A) Não será considerada como pena a admoestação que o superior fizer ao subalterno, mostrando-lhe irregularidade praticada no serviço ou chamando sua atenção para fato que possa trazer como consequência uma contravenção.
- (B) Não será considerado como pena o recolhimento em compartimento fechado, com ou sem sentinela, bem como a aplicação de camisa de força, algemas ou outro meio de coerção física de quem for atacado de loucura ou excitação violenta.
- (C) Por uma única contravenção NÃO pode ser aplicada mais de uma punição.
- (D) O Presidente da República, o Ministro da Defesa e o Comandante da Marinha têm competência para impor penas disciplinares a todos os militares da Marinha.
- (E) A punição disciplinar NÃO exime o punido da responsabilidade civil que lhe couber.

QUESTÃO 50

Regulamento disciplinar – com relação ao cumprimento das penas disciplinares, assinale a alternativa INCORRETA.

- (A) A repreensão consistirá na declaração formal de que o contraventor é assim punido por haver cometido determinada contravenção, podendo ser aplicada em particular ou não.
- (B) A pena de prisão simples consiste no recolhimento do Oficial, suboficial ou Sargento na Organização Militar ou outro local determinado, demais Praças, à sua coberta na Organização Militar ou outro local determinado sem prejuízo do serviço interno que lhe couber.
- (C) A pena de impedimento obriga o contraventor a permanecer na Organização Militar, sem prejuízo de qualquer serviço que lhe competir.
- (D) A pena de serviço extraordinário consistirá no desempenho pelo contraventor de qualquer serviço interno, inclusive faina, em dias e horas em que não lhe competir esse serviço.
- (E) A pena de prisão rigorosa consiste no recolhimento do Oficial, suboficial ou Sargento aos recintos que na Organização Militar forem destinados ao uso do seu círculo, demais Praças, à prisão fechada.

RASCUNHO PARA REDAÇÃO

TÍTULO:

1	
2	
3	
4	
5	
6	
7	
8	
9	
10	
11	
12	
13	
14	
15	
16	
17	
18	
19	
20	
21	
22	
23	
24	
25	
26	
27	
28	
29	
30	
31	
32	
33	
34	
35	
36	
37	
38	
39	
40	

INSTRUÇÕES GERAIS AO CANDIDATO

- 1 - Verifique se a prova recebida e a folha de respostas são da mesma cor (consta no rodapé de cada folha a cor correspondente) e se não faltam questões ou páginas. Escreva e assine corretamente o seu nome, coloque o seu número de inscrição e o dígito verificador (DV) apenas nos locais indicados;
- 2- O tempo para a realização da prova será de 4 (quatro) horas, incluindo o tempo necessário à redação e à marcação das respostas na folha de respostas, e não será prorrogado;
- 3 - Só inicie a prova após ser autorizado pelo Fiscal, interrompendo a sua execução quando determinado;
- 4 - A redação deverá ser uma dissertação com idéias coerentes, claras e objetivas escritas na língua portuguesa e escrita em letra cursiva. Deverá ter no mínimo 20 linhas contínuas, considerando o recuo dos parágrafos, e no máximo 30 linhas;
- 5 - Iniciada a prova, não haverá mais esclarecimentos. O candidato somente poderá deixar o seu lugar, devidamente autorizado pelo Supervisor/Fiscal, para se retirar definitivamente do recinto de prova ou, nos casos abaixo especificados, devidamente acompanhado por militar designado para esse fim:
 - atendimento médico por pessoal designado pela MB;
 - fazer uso de banheiro; e
 - casos de força maior, comprovados pela supervisão do certame, sem que aconteça saída da área circunscrita para a realização da prova.
 Em nenhum dos casos haverá prorrogação do tempo destinado à realização da prova, em caso de retirada definitiva do recinto de prova, esta será corrigida até onde foi solucionada;
- 6 - Use caneta esferográfica preta ou azul para preencher a folha de respostas;
- 7 - Confira nas folhas de questões as respostas que você assinalou como corretas antes de marcá-las na folha de respostas. Cuidado para não marcar duas opções para uma mesma questão na folha de respostas (a questão será perdida);
- 8 - Para rascunho, use os espaços disponíveis nas folhas de questões, mas só serão corrigidas as respostas marcadas na folha de respostas;
- 9- O tempo mínimo de permanência dos candidatos no recinto de aplicação de provas é de 120 minutos.
- 10 - Será eliminado sumariamente do processo seletivo/concurso e as suas provas não serão levadas em consideração, o candidato que:
 - a) der ou receber auxílio para a execução da Prova escrita objetiva de conhecimentos profissionais e da Redação;
 - b) utilizar-se de qualquer material não autorizado;
 - c) desprezar qualquer prescrição relativa à execução da Prova e da Redação;
 - d) escrever o nome ou introduzir marcas identificadoras noutro lugar que não o determinado para esse fim;
 - e) cometer ato grave de indisciplina; e
 - f) comparecer ao local de realização da Prova escrita objetiva de conhecimentos profissionais e da Redação após o horário previsto para o fechamento dos portões.
- 11- Instruções para o preenchimento da folha de respostas:
 - a) use caneta esferográfica azul ou preta;
 - b) escreva seu nome em letra de forma no local indicado;
 - c) **assine o seu nome no local indicado;**
 - d) no campo inscrição DV, escreva o seu número de inscrição nos retângulos, da esquerda para a direita, um dígito em cada retângulo. Escreva o dígito correspondente ao DV no último retângulo. Após, cubra todo o círculo correspondente a cada número. Não amasse dobre ou rasgue a folha de respostas sob pena de ser rejeitada pelo equipamento de leitura ótica que corrigirá as mesmas; e
 - e) só será permitida a troca de folha de respostas até o início da prova, por motivo de erro no preenchimento nos campos nome, assinatura e número de inscrição, sendo de inteira responsabilidade do candidato qualquer erro ou rasura na referida folha de respostas, após o início da prova.
- 12 - Procure preencher a folha com atenção de acordo com o exemplo abaixo:

13 - Não será permitido levar a prova após sua realização. O candidato está autorizado a transcrever as suas respostas, dentro do horário destinado à solução da prova, utilizando o modelo impresso no fim destas instruções para posterior conferência com o gabarito que será divulgado em Boletim de Ordens e Notícias (BONO) da Marinha do Brasil, disponível nas Organizações Responsáveis pela Divulgação e Inscrição (ORDI) e na página da DEEnsM na Internet. É proibida a utilização de qualquer outro tipo de papel para anotação do gabarito.

ANOTE SEU GABARITO										PROVA DE COR _____														
1	2	3	4	5	6	7	8	9	10	11	12	13	14	15	16	17	18	19	20	21	22	23	24	25
26	27	28	29	30	31	32	33	34	35	36	37	38	39	40	41	42	43	44	45	46	47	48	49	50